

مع تمنياتي بالنجاح والتفوق
مستر وليد المصري
معلمه خير رياضيات
م : ٠١٢٢٩٤٧٦٩٤٨

سندباد التعليمية

سلسلة

اكتشف وتعلم

رياض الأطفال - مستوى ثان
الفضل الدراسي الأول



الفهرس

مع تمنياتى بالنجاح والتفوق
مستر وليد الحسرى
معلم خير رياضيات
م : ٤٨ ٩٦ ٧٤ ٢٩ ٤٢ ٤٠

المحور الأول : من أكون ؟

الفصل الأول : اعرفني (٣)

الفصل الثاني : لوحة الفصل (١٠)

الفصل الثالث : قدامان , و أربعة مخالب (١٩)

المحور الثاني : العالم من حولي .

الفصل الأول : عالمنا الطبيعي (٢٧)

الفصل الثاني : عالم من صنع الإنسان (٤٤)






مع تمنياتي بالنجاح والتفوق
مستر وليد المصري
معلمه خير رياضيات
م: ٠١٣٧٩٤٧٦٩٤٨

الفصل الأول

اعرفني




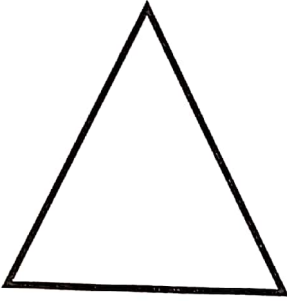


متشابه و مختلف



مع تمنياتي بالنجاح والتفوق
مستر وليد المصري
معلم خبير رياضيات
م : ١٢٢٩٤٧٦٩٤٨



متشابه

لَوْن الأشكال المتشابهة بنفس اللون:



مختلف

لَوْن كل شكلين مختلفين بنفس اللون:

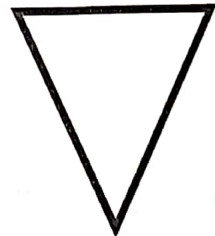

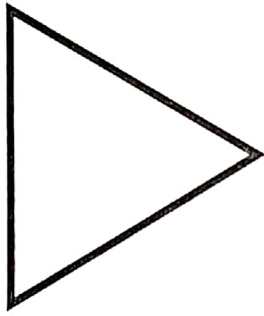






الأشكال - المتشابهة والمختلفة



مع تمنياتي بالنجاح والتفوق
مستر وليد الحسري
معلم خبير رياضيات
م: ٠١٢٢٩٤٧٦٩٤٨

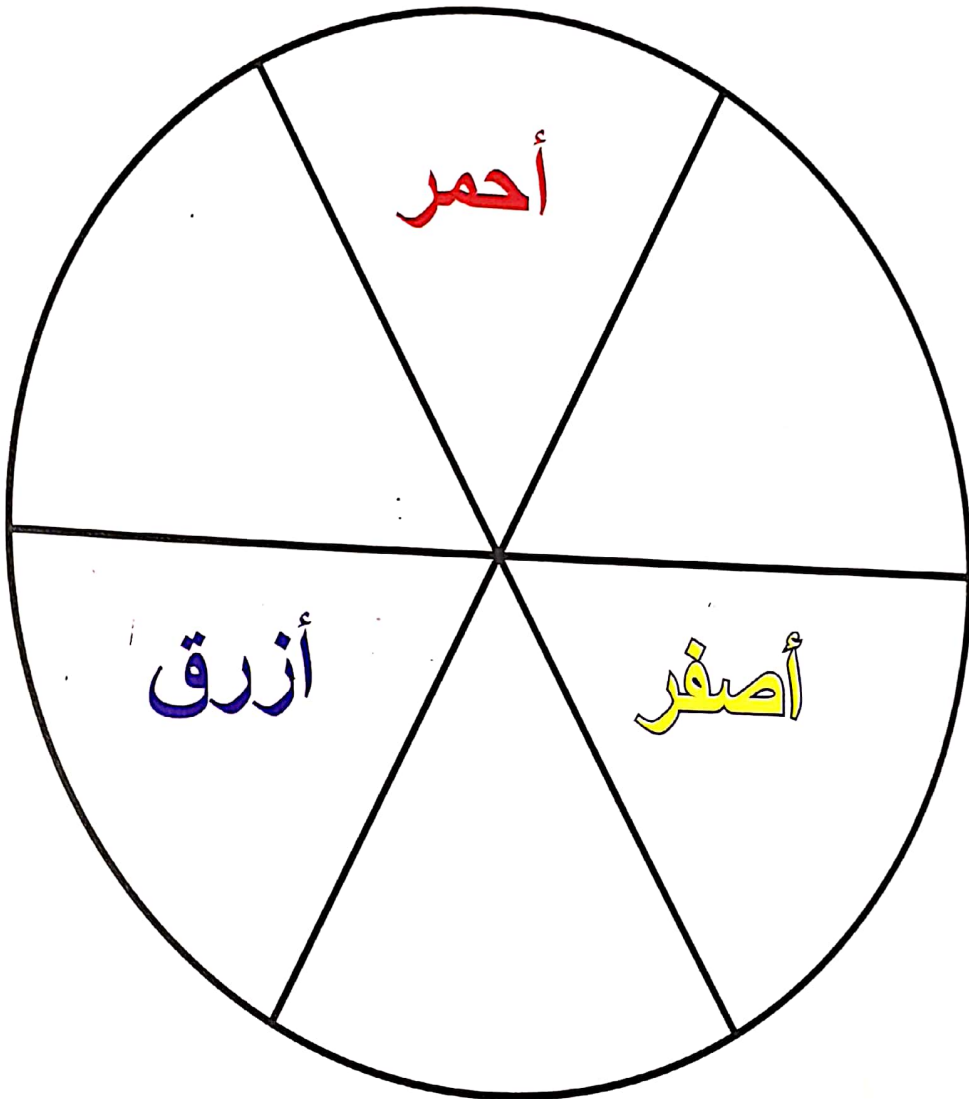
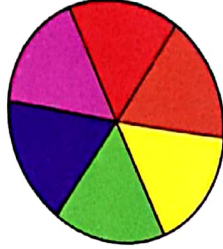
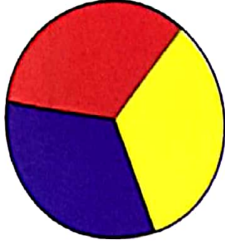
لَوْن الأشكال المتشابهة بنفس اللون:



استكشف الألوان

الألوان الأساسية

ابتكر ألواناً مختلفة باستخدام الألوان الأساسية فقط:

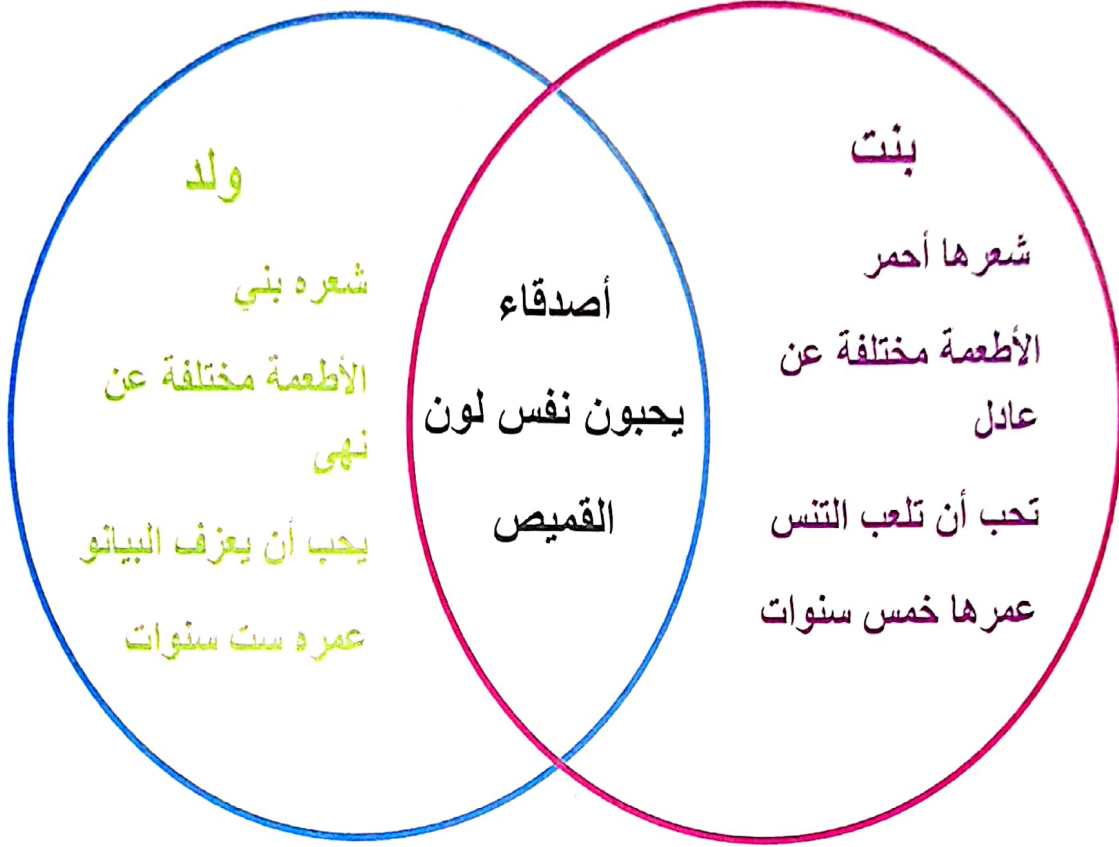


مع تمنياتي بالنجاح والتفوق
مستر وليد المحسرى
معلم خير رياضيات
م : ٠١٢٢٩٤٧٦٩٤٨



مع تمنياتي بالنجاح والتفوق
مستر وليد المصري
معلم خير رياضات
م : ٠١٢٣٩٤٧٦٩٤٨

نهى و عادل



عادل



نهى



مع تمنياتي بالنجاح والتفوق
مستر وليد المصري
معلم خبير رياضات
م: ١٢٢٦٤٧٦٩٤٨

ضع علامة (v) أمام الوصف المناسب:



عادل	نهى	
		أصدقاء
		الشعر بني
		الشعر أحمر
		العمر خمس سنوات
		العمر ست سنوات
		عزف البيانو
		لعب التنس
		بنت
		ولد
		نفس لون القميص



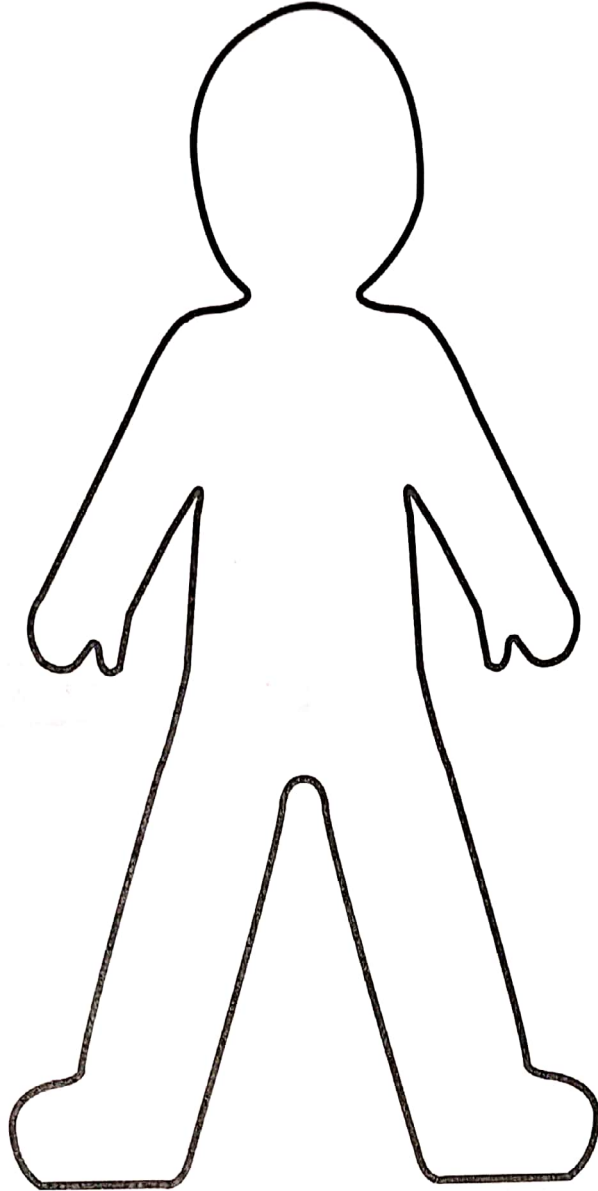
دميتي



أكمل رسم هذه الدمية لتشبهك.



مع تمنياتي بالنجاح والتفوق
مستر وليد المصري
معلم خبير رياضيات
م : ٠١٢٢٩٤٧٦٩٤٨





متشابه و مختلف



صِل الصور بالمرجع المناسب:



مع تمنياتي بالنجاح والتفوق
مستتر وليد المصري
معلم خير رياضات
م : ٠١٢٢٩٤٧٦٩٤٨



مي لها أختان

متشابه




عادل له أخت
واحدة

مختلف



نهى لها أختان



سامح له ثلاثة
إخوة



مع تمنياتي بالنجاح والتفوق
مستر وليد المسري
معلم خبير رياضات
م : ١٢٢٩٤٧٦٩٤٨

العائلة



اسأل والديك ثم سجل العدد:



أمي لها ___ أخت / أخوات
أبي له ___ أخت / أخوات
أمي لها ___ أخ / إخوة
أبي له ___ أخ / إخوة

صل بين كل شخصية بما يناسبها (أب / أم).



العم /
أخو الأب



الخالة /
أخت الأم



الخال /
أخو الأم



العمة /
أخت الأب



الأب



الأم

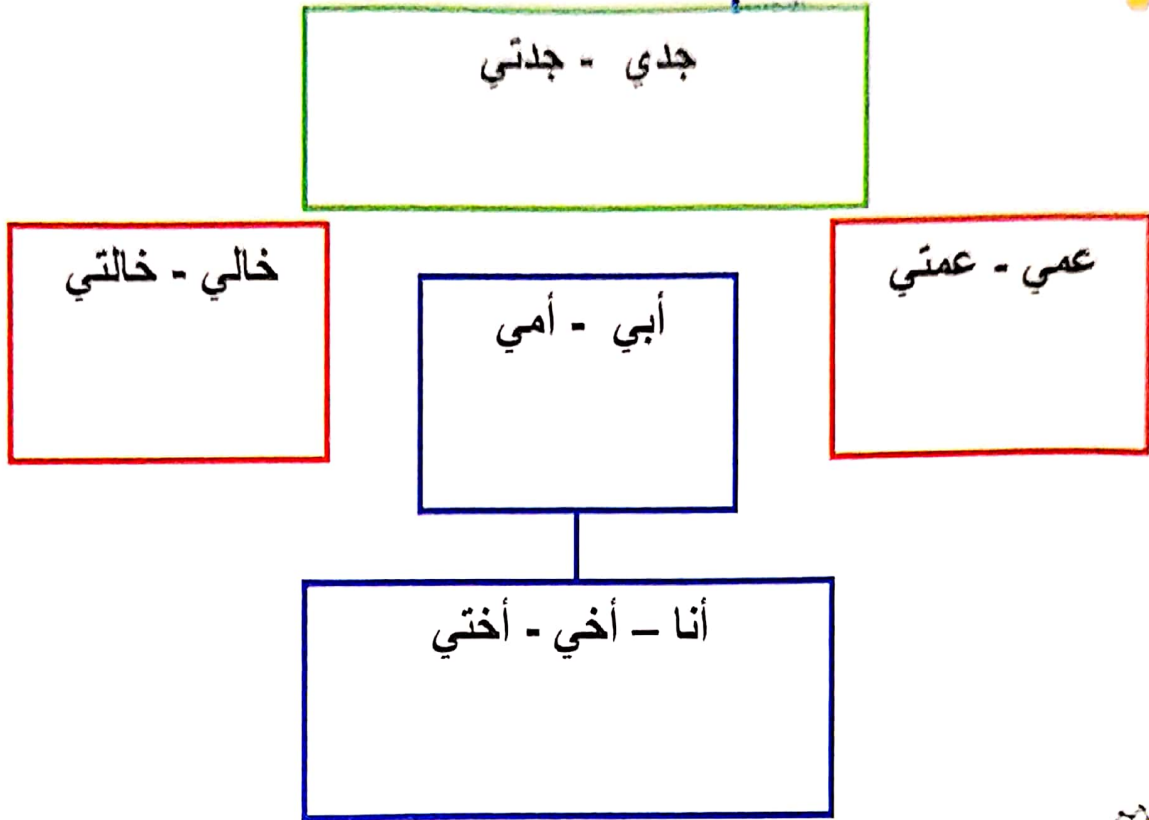


مع تمنياتي بالنجاح والتفوق
مستر وليد المدحري
معنه خير رياضات
٠١٢٢٩٤٧٦٩٤٨ : ٥

شجرة العائلة



ارسم شجرة العائلة



الأم



الأب

صل:



العمة هي أخت



الخالدة هي أخت



العم هو أخو

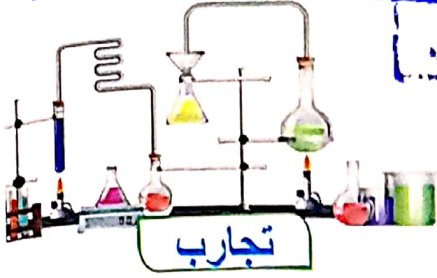


مع تمنياتي بالنجاح والتفوق
مستر وليد المسري
معلم خير رياضيات
٠١٢٢٩٤٧٦٩٤٨

المهن



صل بين العامل ومهنته:




تجارب



الجرار




المريض



النبات



أشعة



الطبيب



العالم



الفلاح



صل بين العامل وأدواته:



ورق



قلم



سيارة اسعاف



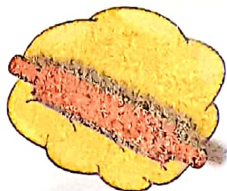
خرطوم الحريق



أدوات الخبز



حريق بالمنزل



عجين

مع تمنياتي بالنجاح والتفوق
مهستر وليد المسري
معلمه خير رياضيات
م : ٠١٢٢٩٤٧٦٩٤٨



مؤلف



رجل الإطفاء



الخباز





الغاز المهين




مع تلميذاتي بالنجاح والتفوق
مستتر وليد المسري
معلمة خبير رياضيات
هاتف: ٠١٢٢٩٤٧٦٩٤٨

رتب الصورة عن طريق كتابة الرقم داخل كل صورة:



رتب الصورة عن طريق كتابة الرقم داخل كل صورة:

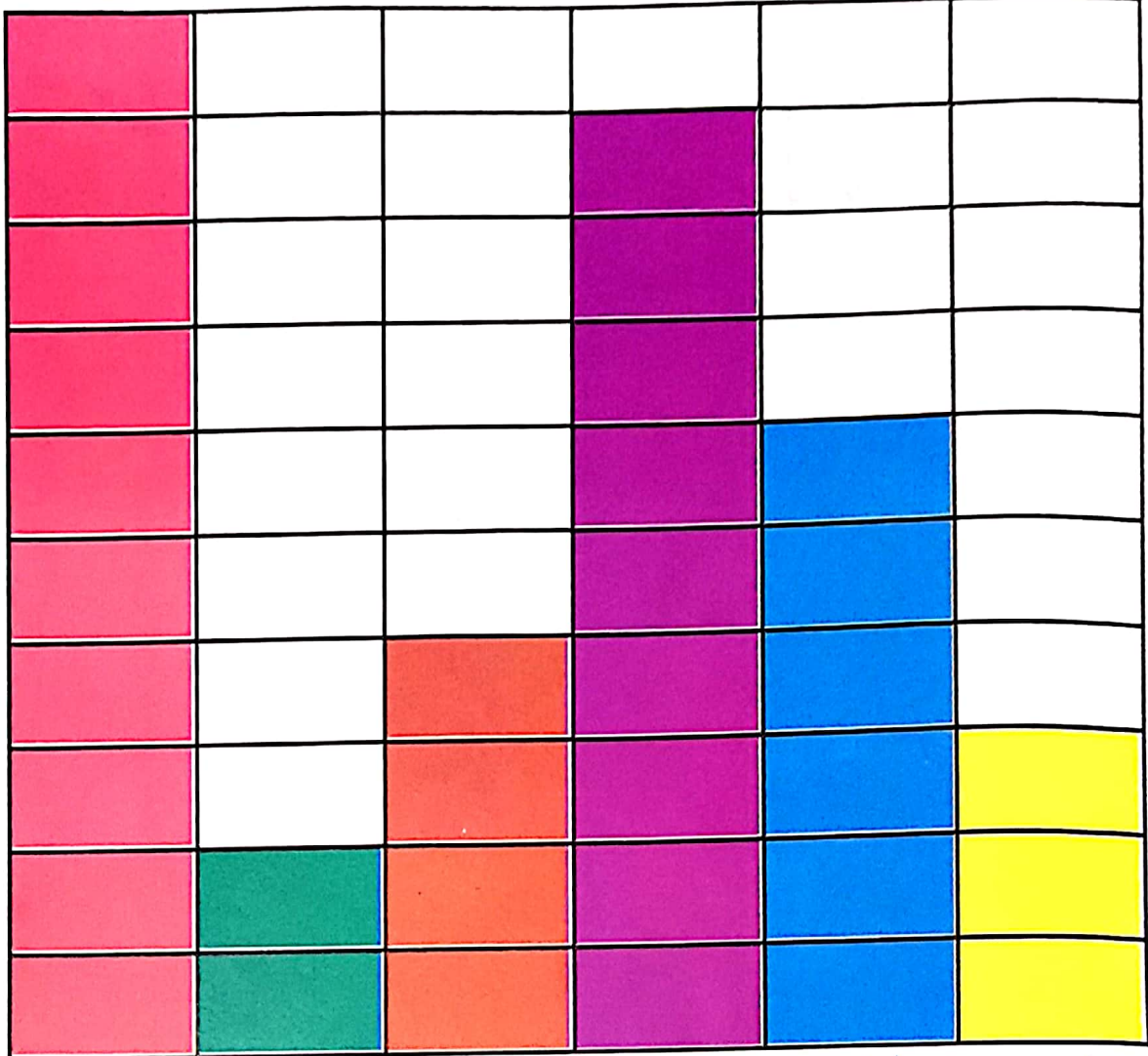


مع تمنياتي بالنجاح والتفوق
مستر وليد المصري
معلم اختبار رياضيات
م/ ٢٠٢٠ / ٢٠٢١ / ٢٠٢٢ / ٢٠٢٣

تمثيل بياني للمهن التي نفضلها



اقرأ التمثيل البياني وأجب عن الأسئلة:



خباز مؤلف عالم رجل إطفاء فلاح طبيب

★ كم عدد الأطباء؟

★ كم عدد العلماء؟

★ كم عدد المؤلفين؟

★ ارسم دائرة حول المهنة التي يرغب أغلب التلاميذ في العمل بها مستقبلاً.

★ ارسم خطأ أسفل المهنة التي لا يرغب أغلب التلاميذ في العمل بها مستقبلاً.



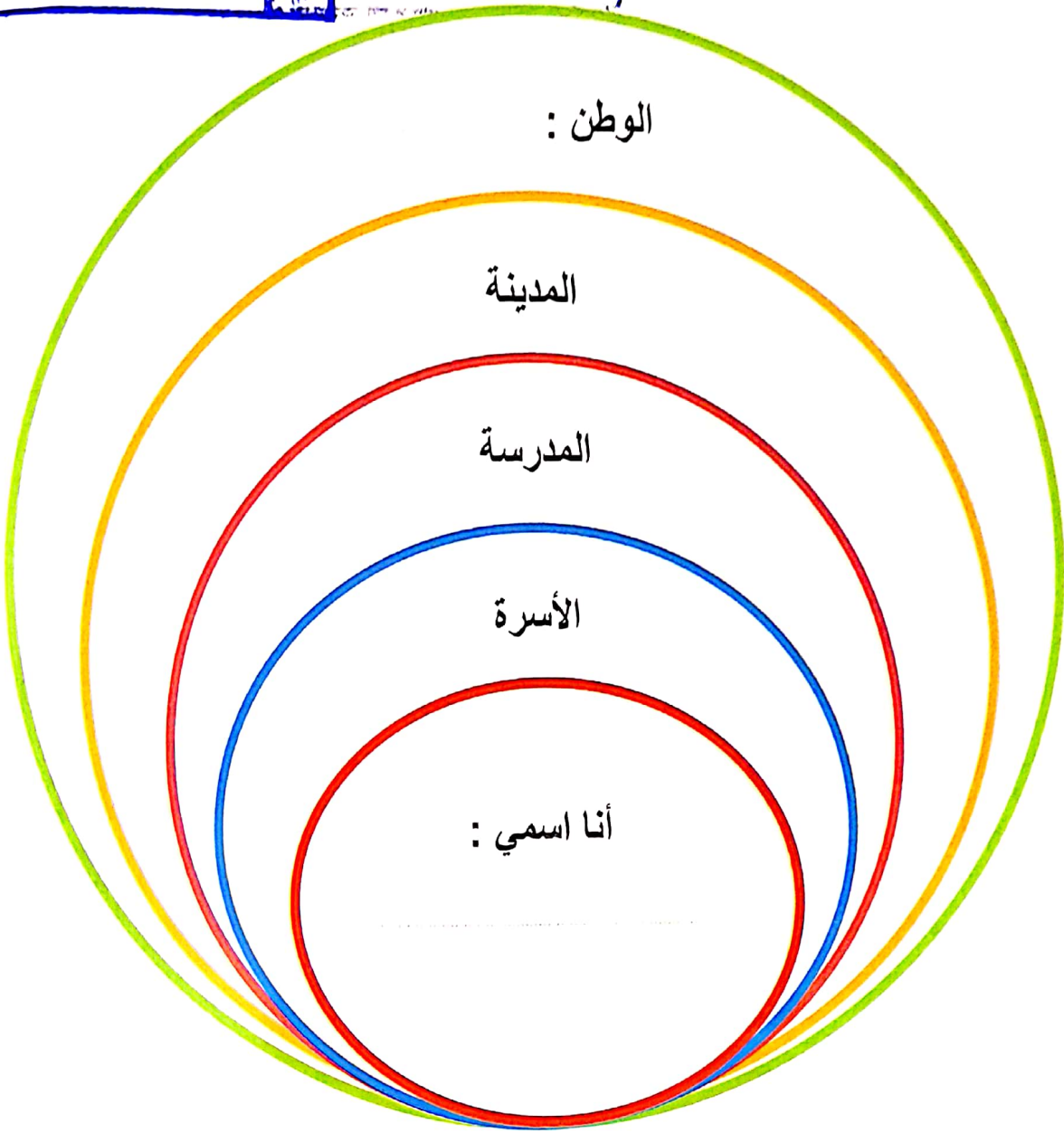
نحن جزء من مجتمعات عديدة




اكتب اسمك واسم مصر في المكان المناسب. ثم املاء باقي الدوائر.



معركة النيات بالنجاح والتفوق
مضطر وليد الحسري
معلم خير رياضيات
: ١٢٢٩٤٧٦٩٤٨





تعليمات
مستر وليد المصري
معلم خبير رياضيات
: ١٢٢٩٤٧٦٩٤٨

الفصل الثالث قدمان ، و أربعة مخالب



مع تمنياتي بالنجاح والتفوق
مستر وليد المصري
معلم خبير رياضيات
م : ١٢٢٩٤٧٦٩٤٨

قدمان , و أربعة مخالب




صل كل صورة بالمرجع المناسب:



قدمان



أربعة مخالب



صل كلاً من الجهتين بالطعام المناسب في المنتصف (يمكن اختيار أكثر من إجابة).



مع تمنياتي بالنجاح والتفوق
مستر وليد المصري
معلم خبر رياضات
٠١٢٢٩٤٧٦٩٤٨



النسر الذهبي




النباتات




الإنسان



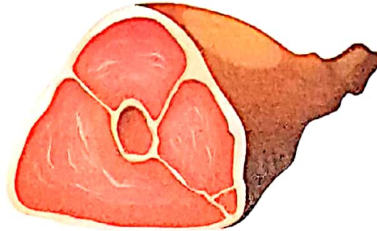
الغزال



السحالي




الحمار



اللحوم



ثعلب الفنك



الحشرات



الجربوع



مع تمنياتي بالنجاح والتفوق
مستر وليد المصري
معلم خير رياضات
م : ٠١٢٢٩٤٧٦٩٤٨

صل كل حيوان بالماوى المناسب:



النسر الذهبى



جحور اسفل الكثبان الأرضية



الإنسان



جحور تحت الأرض



الغزال




منزل




الحمار



حقول / أرض زراعية



ثعلب الفنك



عش



الجربوع



صل كل حيوان بالقدم المناسبة:

مع تمنياتي بالنجاح والتفوق
مستر وليد المسري
معلم خير رياضات
٠١٣٢٩٤٧٦٩٤٨ : ٨



ثعلب الفئك



الجربوع

قدم



الغزال

مخالب



الحمار



النسر الذهبي

حوافر



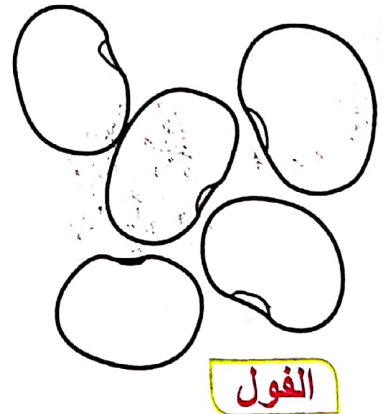
الإنسان



الأطعمة التي نأكلها



ارسم دائرة حول الأطعمة التي تمثل الخيارات غير الصحية.
لوّن طعامك المفضل من بين الأطعمة المرسومة في الصفحة.









مع تمنياتي بالنجاح والتفوق
مستر وليد المسري
معلم غير رياضيات
٠١٢٢٩٤٧٦٩٤٨

مقارنة الحيوانات



اكتب عدد الآذان و الأقدام في المربع الصحيح



 الأقدام	 الآذان	
		 الحمار
		 ثعلب الفئك
		 الغزال
		 النسر
		 الجربوع
		 الإنسان




مع تفتيش بالتحاق والفتور
مستتر ولهد المصري
منه غير رياضيات
١٢٢٩٤٧٦٩١٨ : ٥

علم مصر



لون العلم.



- ★ الجزء العلوي من العلم أحمر .
- ★ الجزء الأوسط من العلم أبيض .
- ★ الجزء السفلي من العلم أسود .
- ★ النسر باللون الأصفر .



المحور الثاني العالم من حولي

مع تلميذاتي بالتفاح والتفوق
مستتر وليد المصري
معلم خبير رياضيات
م : ٠١٢٢٩٤٧٦٩٤٨

الفصل الأول عالمنا الطبيعي






مع تمنياتي بالنجاح والتفوق
مستر وليد المصري
معلم خبير رياضيات
م : ١٢٢٩٤٧٦٩٤٨

فناء المدرسة



ارسم دائرة حول الكائنات الحية:



نزهة في الطبيعة



صنف الأشياء الموجودة أمامك. عد الأشياء في كل مجموعة.
ثم اكتب العدد.



حي

غير حي

★ ضع دائرة حول العدد الأكبر.



تتبع أجزاء النبات



مع تمنياتي بالنجاح والتفوق
مستر وليد المصري
معلم خبير رياضيات
م : ٠٢٢٢٩٤٧٦٩٤٨

تتبع أجزاء النبات ثم لونه.



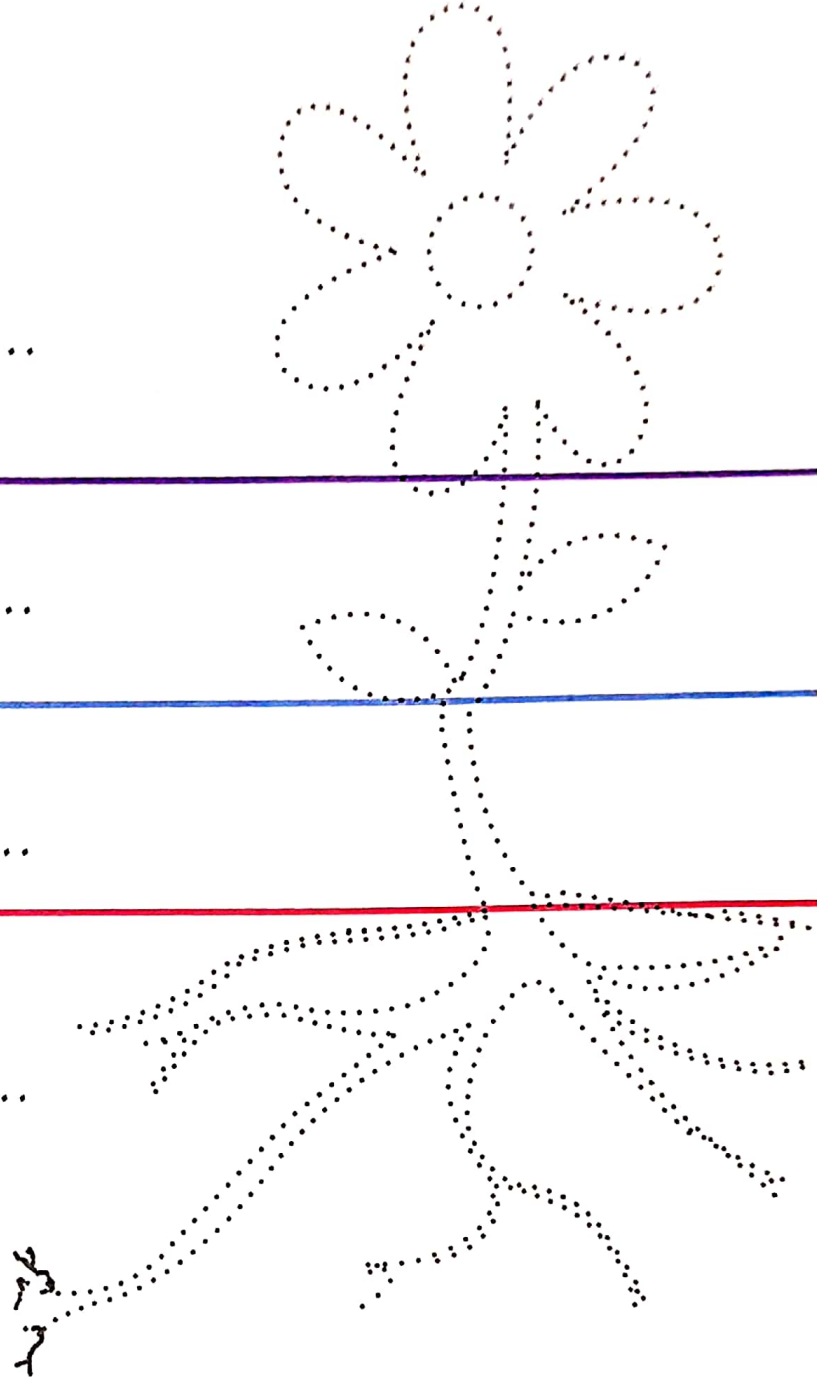
اكتب أول حرف من كل كلمة. ثم ردد كل كلمة.

هرة

وراق

اق

ذور



الكَرْفَس




ماذا تلاحظ؟



الكَرْفَس اليوم و غداً .

الكَرْفَس بعد



الكَرْفَس قبل



ما الجزء الذي يحمل النبات إلى أعلى؟

الجنور

الأوراق

الساق

الزهرة





ارسم صورة لتوضح هذه القصة.



نبات سارة

سارة لديها نبات
النبات بحاجة للتربة
النبات بحاجة للهواء
النبات بحاجة للماء
النبات بحاجة لأشعة الشمس





ارسم دائرة حول الجزء المسنول عن الحصول على الهواء في جسم
الإنسان. ارسم دائرة حول جزء النبات المستخدم للحصول على الهواء.





مع تمنياتي بالنتاج والتفوق
مستر وليد المصري
معلم خبير رياضات
م: ٠١٢٤٩٤٧٦٩٤٨

أجزاء النبات



ارسم دائرة حول الجزء الذي يساعد النبات في الحصول على الماء:



الدب البني



لاحظ الصورة و استمع إلى خصائص الحيوان:



الموطن

الدب البني يعيش في الغابة.
الغابة يوجد بها أشجار وصخور للتسلق.

الخصائص

الدب البني لديه فراء سميك.
الدب البني لديه مخالب حادة.
الدب البني لديه أسنان قوية.
لماذا يتمتع الدب بتلك الخصائص؟



مع تمنياتي بالنجاح والتفوق
مستتر وليد المصري
معلم غير رياضي
١٢٢٩٤٧٦٩٤٨

خصائص الحيوانات



انظر إلى السهم في كل صورة ثم صل كل حيوان بالخاصية المناسبة:




حركة



تناول
الطعام




الاختباء



مع تمنياتي بالنجاح والتفوق
مستر وليد المصري
معلم غير رياضيات
٠١٢٢٩٤٧٦٩٤٨

أكبر أم أصغر؟

ارسم دائرة حول النبات الأكبر حجمًا.

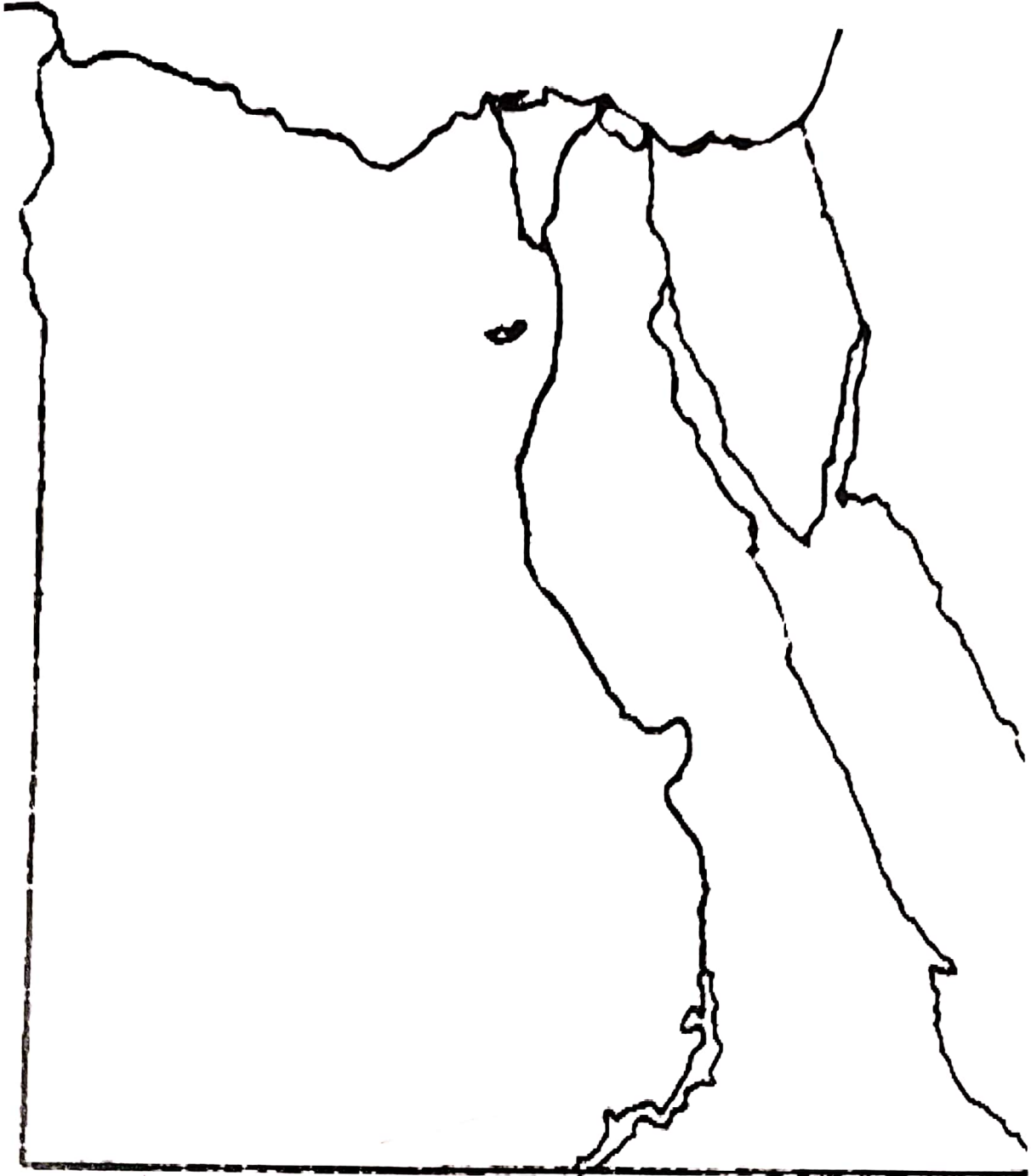


مع تمنياتي بالنجاح والتفوق
مستر وليد المصري
معلم خير رياضيات
٠١٢٢٩٤٧٦٩٤٨

خريطة مصر




ابحث عن أماكن وجود الماء على الخريطة ولونها بالأزرق:




السماء في وقت النهار

مراحل ظل الشجرة في مختلف أوقات النهار. انظر إلى ظل الشجرة في كل صورة ثم اختر الإجابة الصحيحة:


(في الصباح - في المساء - في الظهيرة)




(في الصباح - في المساء - في الظهيرة)




(في الصباح - في المساء - في الظهيرة)




(في الصباح - في المساء - في الظهيرة)



(في الصباح - في المساء - في الظهيرة)



(في الصباح - في المساء - في الظهيرة)



رسم ظلي



ارسم نفسك في منتصف الصفحة .

لاحظ مكان الشمس , أين سيكون ظلك ؟

ارسم ظلك .








لاحظ الصورة. ما الأشكال التي تراها؟



صِف تغيّر القمر في كل صورة:



الخرائط و الصور




ما أوجه الاختلاف بين الخرائط والصور؟



وما أوجه التشابه بينهما؟

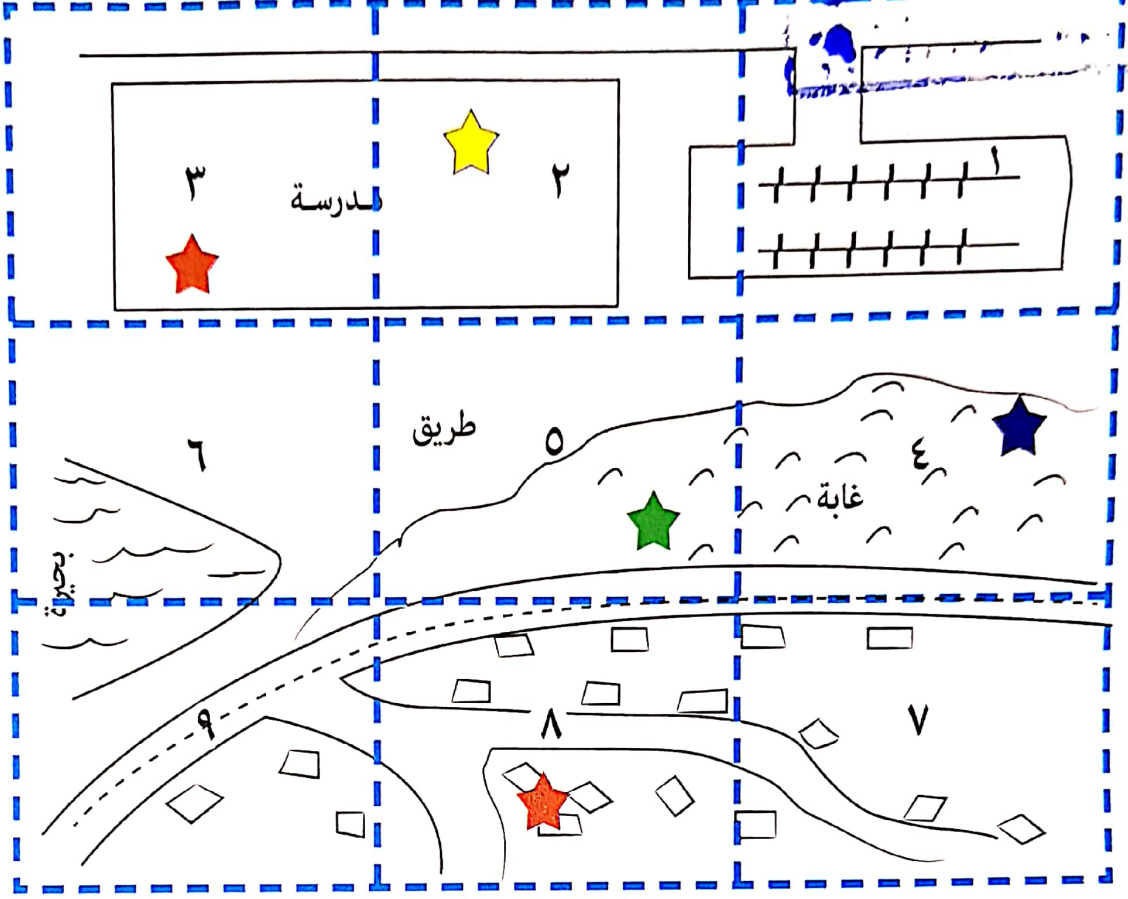
متمنيات بالنجاح والتفوق
مستر وليد المصري
معلم خبير رياضيات
٠١٢٣٩٤٧٦٩٤٨



التدرب على الخريطة

مع تمنياتي بالنجاح والتفوق
مستر وليد المصري
معه خير رياضيات
٠١٢٢٩٤٧٦٩٤٨٨

حدد مواقع الأشياء على الخريطة.



الموقع	المفتاح
مربع	كرة حمراء
مربع	قلم تلوين أصفر
مربع	فنجان أخضر
مربع	كتب برتقالي
مربع	قبعة زرقاء







مع تمنياتي بالنجاح والتفوق
مستتر وليد المصري
معلم خبير رياضيات
م: ١٢٢٩٤٧٦٩٤٨

الفصل الثاني عالم من صنع الإنسان



ارسم دائرة حول الأشياء الطبيعية. ارسم مربعًا حول الأشياء المصنوعة.


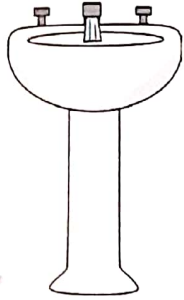
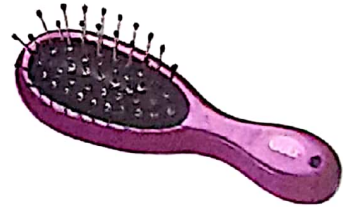



مع تمنياتي بالنجاح والتفوق
ميسر وليد المسوي
معه غير رياضي
م : ٠١٢٢٩٤٧٦٩٤٨

التكنولوجيا تساعدنا



صل بين المهمة والتكنولوجيا التي تساعدنا في القيام بها.
يمكن أن تجد أكثر من وسيلة تكنولوجيا تساعدنا في نفس المهمة.



العمل في الحديقة : المهن و الأدوات



اقرأ إلى طفلك ودع طفلك يصل الفقرة بالصورة المناسبة.



يعمل المصمم في الحدائق.
يرسم المصمم مخطط الحديقة.
يستمتع المصمم بالرسم.



يعمل عامل البناء في الحدائق.
يستمتع عامل البناء بعمله.



يعمل البستاني في الحديقة.
يعتني البستاني بالنباتات.
يستمتع البستاني بالرسم.



مَنْ يَعْمَلُ فِي الْحَدِيقَةِ؟




لاحظ صورة الحدائق .

مع تمنياتي بالنجاح والتفوق
مستر وليد المسري
معلم خير رياضيات
م : ٠١٢٢٩٤٧٦٩٤٨

ارسم دائرة حول الأجزاء التي صنعها عامل البناء .

ارسم دائرة حول الأجزاء التي يعتني بها البستاني .

ما الذي قام به المصمم ؟




الأدوات و التكنولوجيا الزراعية



لاحظ الصور. ضع دائرة على الأدوات المستخدمة.
ما المواد المصنوعة منها؟ ما الغرض من استخدامها في رأيك؟



هذه الأداة مصنوعة من





هذه الأداة مصنوعة من

إلى أين نساfer؟




مع تخطيط بالطاوع والتفوق
مستمر ولتهدد المسافر
بمنه غير رياضية
١٠٢٩١٧٦٩٤٨

صل بين وسيلة المواصلات والمكان المناسب:






تخيل أنك سيارة تسير على الطريق فكر جيداً, كيف يمكننا أن نجعل هذا الطريق أكثر أماناً؟ ارسـم إشارة مرور في مكان ما. ارسـم أي أفكار أخرى تخطر لك لجعل التقاطع أكثر أماناً.



ارسم سحاباً ثم لَوّن الصورة أدناه. أين تحلق الطائرة أثناء طيرانها؟



الاحتفالات الوطنية




تتبع أسماء الاحتفالات. لون الصور.



مع تمنياتي بالنجاح والتفوق
مستر وليد المسري
معه خير رياسات
٠١٧٢٩٤٧٦٩٤٨

ليلة رأس السنة



عيد الفطر



عيد الميلاد المجيد



دعوة



أكمل الفراغات . ما الذي ستحتفل به ؟ من الذي ستدعوه ؟ لون



الدعوة .

مع تمنياتي بالنجاح والتفوق
مستر وليد الحصري
معلم خبير رياضيات
م : ٠٦٢٢٩٤٧٩٤٨

دعوة باسم:

أنت مدعو

طبيعة الاحتفال : احتفال في الحديقة

سبب الاحتفال :

موجهة من :



بالونات الاحتفال



مع تمنياتي بالنجاح والتفوق
مستر وليد المصري
معلم غير رياضيات
م : ١٢٢٩٤٧٦٩٤٨


استخدم الصور وأجب:



و بعد ذلك, نفخت بالونتين إضافيتين.

نفخت "سمر" ٤ بالونات

فكم عدد البالونات الإجمالي لدى "سمر" الآن ؟



كان مع "سمر" ٦ بالونات .

و بعد ذلك, انفجر منها بالونتان ! فكم عدد البالونات لدى "سمر" الآن ؟




تنظيم الحفل



لوّن الصور، ثم اكتب الترقيم الصحيح تحت كل صورة لترتيب
مراحل تنظيم الحفل.



تجهيز المكان




وصول الضيوف



تناول الضيوف للطعام




التنظيف بعد انتهاء الحفل



مع تمنياتي بالنجاح والتفوق
مستر وليد المحسري
معلم خبير رياضيات
م : ٠١٢٢٩٤٧٦٩٤٨

أجهزة الكمبيوتر

اعرف الأجهزة التكنولوجية.



تعلم أجزاء الكمبيوتر.



الفأرة
"الماوس"

لوحة المفاتيح

إرشادات : رتب الكلمات لتكوين جملة . اكتب الجملة .

جهاز

في العمل .

الكمبيوتر

يساعدني

